










نام و نام خانوادگی: پایه: دوم	آزمون ریاضی تاریخ: ۱۴۰۰/۰۲/۰۲						
من چه عددی هستم که یکانم بزرگ ترین عدد یک رقمی و دهگانم کوچک ترین عدد یک رقمی و صدگانم ۳ تا از یکانم کمتر است.							
من را به حروف و رقم بنویس.							
رقم : حروف:							
<table border="1" style="margin: auto;"> <tr> <td style="width: 30px; height: 20px;">ص</td> <td style="width: 30px; height: 20px;">د</td> <td style="width: 30px; height: 20px;">ی</td> </tr> <tr> <td style="width: 30px; height: 20px;"> </td> <td style="width: 30px; height: 20px;"> </td> <td style="width: 30px; height: 20px;"> </td> </tr> </table>		ص	د	ی			
ص	د	ی					
با کارت های ۹ ۳ ۶ عددهای سه رقمی بساز که رقم یکانش بیشتر از رقم دهگانش و رقم دهگانش کمتر از رقم صدگانش باشد.							
.....							
الگوها را ادامه بده.							
۱۱۴ - ۱۲۴ - ۱۳۴ - - - - - ۴۸۰ - ۴۸۵ - ۴۹۰ - - - - - ۱ - ۲ - ۵ - ۱۰ - -							
ساعت قبل و بعد را نشان بده.							
<table style="width: 100%; text-align: center;"> <tr> <td style="width: 30%;">  یک ربع قبل : </td> <td style="width: 30%;">  نیم ساعت بعد : </td> <td style="width: 30%;">  : </td> </tr> </table>		 یک ربع قبل :	 نیم ساعت بعد :	 :			
 یک ربع قبل :	 نیم ساعت بعد :	 :					
تفاوت و شباهت شکل های زیر را بنویس.							
<table style="width: 100%;"> <tr> <td style="width: 50%; text-align: center;"> <table border="1" style="margin: auto;"> <tr> <td style="width: 40px; height: 40px;"> </td> <td style="width: 40px; height: 40px;"> </td> </tr> </table> </td> <td style="width: 50%;"> تفاوت: شباهت: </td> </tr> </table>		<table border="1" style="margin: auto;"> <tr> <td style="width: 40px; height: 40px;"> </td> <td style="width: 40px; height: 40px;"> </td> </tr> </table>			تفاوت: شباهت:		
<table border="1" style="margin: auto;"> <tr> <td style="width: 40px; height: 40px;"> </td> <td style="width: 40px; height: 40px;"> </td> </tr> </table>			تفاوت: شباهت:				

